












Name: _____

1. Manche Gegenstände werden von Magneten angezogen, andere wiederum nicht. Überprüfe mit einem Stabmagnet welche Gegenstände angezogen werden, also „magnetisch“ sind.
2. Überlege, ob der Gegenstand aus Metall besteht.
3. Mache bei der richtigen Antwort ein Kreuz „ x “

Nummer	Gegenstand	Bild	magnetisch		Metall	
			ja	nein	ja	nein
1	Eisennagel					
2	Kupferdraht					
3	Holzstab					
4	Büroklammer					
5	Aluminiumdraht					
6	Stein					
7	Schraube					
8	Papier					
9	Leder					
10	Stahlscheibe					
11	Radiergummi					
12	Luftballon	